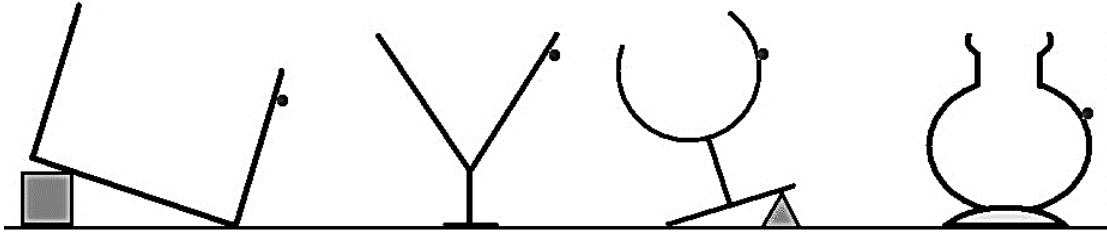


التمرين الأول : (8 نقط)

(1) أملأ الفراغ بالكلمات التالية :

- بخار الماء - ثلوج - الأجواء العليا الباردة - الأنهار والوديان - البحار والمحيطات - أمطار - تتبخر- باطن الأرض.
- مياه البحار و المحيطات تحت تأثير أشعة الشمس و ينتقل إلى الغلاف الجوي.
- يتكاثف بخار الماء في فيتحول إلى سحب، بعض هذه السحب يتحول إلى
و بعضها يتحول إلى
- تصب مياه الأمطار و المياه الناتجة عن انصهار الثلوج في، ويتسرب بعضها إلى
- تجري مياه الأنهار و الوديان لتعود من جديد إلى

(2) ارسم السطح الحر للسوائل الموجودة في الأواني التالية (انطلاقا من المؤشر المحدد بنقطة) :



(3) ضع العلامة (X) في الخانة المناسبة من الجدول التالي :

الجسم الغازي	الجسم السائل	الجسم الصلب		
		غير المتراص	المتراص	
				يمكن مسكه بالأصابع
				يأخذ شكل الإناء الذي يوجد فيه
				له سطح مستوي وأفقي

(4) أتمم الجملة التالية بما يناسب من الكلمات :

- الوحدة العالمية لقياس الضغط هي رمزها وهناك أيضا وحدة
..... رمزها

(5) حول : $156 \text{ Pa} = \dots\dots\dots \text{ hPa}$ و $1000 \text{ hPa} = \dots\dots\dots \text{ bar}$

(6) أجب بكتابة "صحيح" أو بكتابة "خطأ" :

	يمكن قياس قيمة الضغط الجوي باستعمال ميزان الكتروني
	ينخفض ضغط غاز عندما تنقص كتلته مع ثبات حجمه ودرجة حرارته
	الضغط الجوي له نفس القيمة في كل مكان على سطح الأرض
	يرتفع ضغط غاز عندما ينقص حجمه مع ثبات كتلته ودرجة حرارته

(7) ما الفرق بين الضغط و الضغط الجوي ؟

التمرين الثاني : (8 نقط)

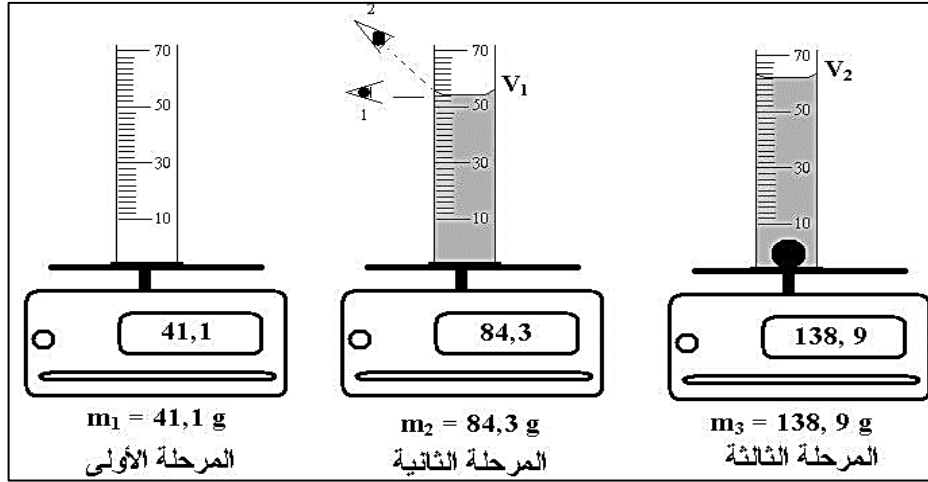
(1) ماذا نقصد بـ "خزانات المحيط المائي" ؟ أذكرها.

1

(2) أعط أربعة أمثلة من استعمالات الإنسان للماء.

1

(3) ننجز المناولة التالية حيث نستعمل سانلا وكرة معدنية وميزانا الكترونية ومخبارا مدرجا ب mL .



(1.3) حدد قيمة القسمة في تدريجة المخبار.

1

الوضع 2

الوضع 1

(2.3) بين الوضع الصحيح للعين عند قراءة التدريجة :

0,5

0,5

(3.3) اكتب قيمة الحجم V_1 و قيمة الحجم V_2 :

1

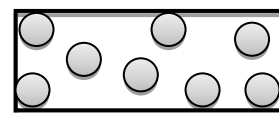
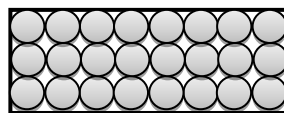
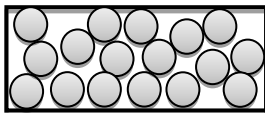
1

(4.3) استنتج V حجم الكرة المعدنية.

(4) أحسب M كتلة الجسم السائل و M' كتلة الجسم الصلب.

(5) تمثل الأشكال الثلاثة نماذج للحالات الفيزيائية الثلاث للمادة. حدد الحالة الفيزيائية الخاصة بكل نموذج.

2



التمرين الثالث : (4 نقط)

عُثرت والدة اسماعيل على قارورة بها سائلان غير ممتزجان ورغم التحريك لاحظت أن أحدهما دائما يطفو على الآخر. توجه اسماعيل إلى مختبر العلوم الفيزيائية وقام بالقياسات التالية :

السائل A : كتلة 50mL من السائل A هي 50g . السائل B : كتلة 50mL من السائل B هي 40g .

2

(1) ساعد اسماعيل على التمييز بين السائلين بحساب الكتلة الحجمية لكل منهما : (ρ_B و ρ_A)

بالنسبة للسائل B :

: A بالنسبة للسائل A :

1

(2) إذا علمت أن الكتلة الحجمية للزيت هي $\rho_{\text{زيت}} = 0.8 \text{ g/mL}$ و أن الكتلة الحجمية للماء هي $\rho_{\text{ماء}} = 1 \text{ g/mL}$ حدد اسم كل من

السائل A و السائل B : A : : B :

1

(3) فسر لوالدة اسماعيل لماذا يطفو الزيت فوق الماء؟

{ ☺ + حظ سعيد + ☺ }

التمرين الأول : (8 نقط)

(1) أملأ الفراغ بالكلمات التالية :

بخار الماء - ثلوج - الأجواء العليا الباردة - الأنهار والوديان - البحار والمحيطات - أمطار - تتبخر- باطن الأرض.

- تتبخر مياه البحار والمحيطات تحت تأثير أشعة الشمس، وينتقل بخار الماء إلى الغلاف الجوي.

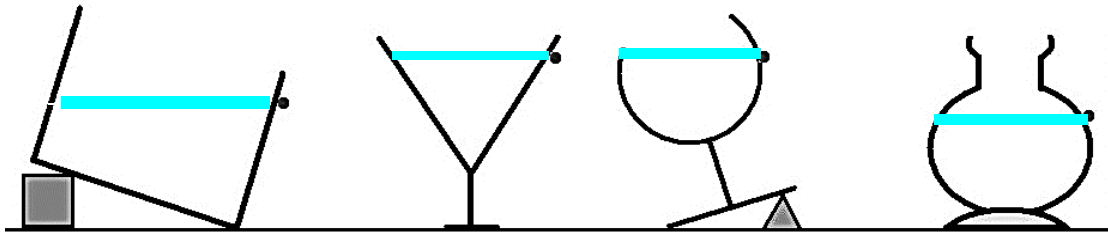
- يتكاثف بخار الماء في الأجواء العليا الباردة فيتحول إلى سحب، بعض هذه السحب يتحول إلى أمطار وبعضها يتحول إلى ثلوج.

- تصب مياه الأمطار والمياه الناتجة عن انصهار الثلوج في البحار والمحيطات، ويتسرب بعضها إلى باطن الأرض.

- تجري مياه الأنهار والوديان لتعود من جديد إلى البحار والمحيطات.

(2) ارسم السطح الحر للسوائل الموجودة في الأواني التالية (انطلاقاً من المؤشر المحدد بنقطة) :

السطح الحر للسوائل يكون مستويا وأفقياً.



(3) ضع العلامة (X) في الخانة المناسبة من الجدول التالي :

الجسم الصلب	الجسم السائل	الجسم الصلب		
		غير المتراص	المتراص	
		X	X	يمكن مسكه بالأصابع
X	X	X		يأخذ شكل الإناء الذي يوجد فيه
X	X			له سطح مستوي وأفقي

(4) أتمم الجملة التالية بما يناسب من الكلمات:

- الوحدة العالمية لقياس الضغط هي الباسكال رمزها Pa. وهناك أيضا وحدة البار رمزها Bar .

(5) حول: $156 \text{ Pa} = 1.56 \text{ hPa}$ و $1000 \text{ hPa} = 10 \text{ bar}$

(6) أجب بكتابة "صحيح" أو بكتابة "خطأ" :

خطأ	يمكن قياس قيمة الضغط الجوي باستعمال ميزان الكتروني
خطأ	ينخفض ضغط غاز عندما تنقص كتلته مع ثبات حجمه ودرجة حرارته
خطأ	الضغط الجوي له نفس القيمة في كل مكان على سطح الأرض
صحيح	يرتفع ضغط غاز عندما ينقص حجمه مع ثبات كتلته ودرجة حرارته

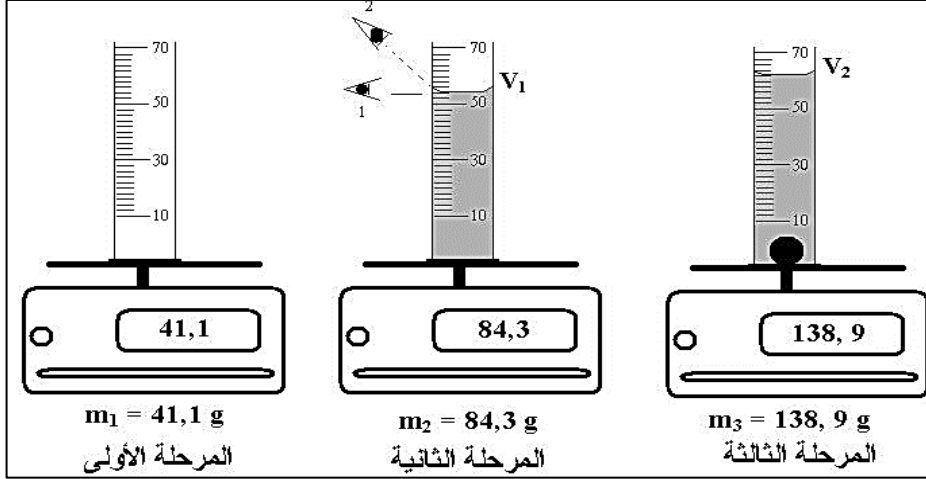
(7) ما الفرق بين الضغط والضغط الجوي؟

الضغط: هو تأثير غاز محجوز.

الضغط الجوي: هو تأثير الهواء الجوي

التمرين الثاني : (8 نقط)

- 1 (1) ماذا نقصد بـ "خزانات المحيط المائي" ؟ أذكرها.
المياه السطحية - المياه الجوفية - السحب - الثلوج.
2 (2) أعط أربعة أمثلة من استعمالات الانسان للماء.
الشرب - التنظيف - انتاج الكهرباء - تبريد الآلات الصناعية ...
1 (3) ننجز المناولة التالية حيث نستعمل سانلا وكرة معدنية وميزانا الكترونيا ومخبارا مدرجا ب mL .



1.3 حدد قيمة القسمة في تدريجة المخبار.

10 تدريجات ← 20mL أي كل تدريجة ← 20/10=2mL

2.3 بين الوضع الصحيح للعين عند قراءة التدريجة : الوضع 1 + الوضع 2 □

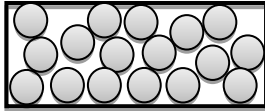
3.3 اكتب قيمة الحجم V_1 وقيمة الحجم V_2 : $V_1=54\text{mL}$; $V_2=62\text{mL}$

4.3 استنتج V حجم الكرة المعدنية $V = V_2 - V_1 = 62 - 54 = 8\text{mL}$

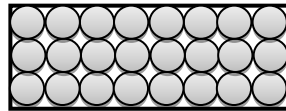
4 أحسب M كتلة الجسم السائل و M' كتلة الجسم الصلب.

$M=84,3-41,1=43,2\text{g}$ و $M'=138,9-84,3=54,6\text{g}$

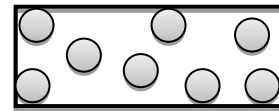
5 تمثل الأشكال الثلاثة نماذج للحالات الفيزيائية الثلاث للمادة. حدد الحالة الفيزيائية الخاصة بكل نموذج.



حالة فيزيائية سائلة



حالة فيزيائية صلبة



حالة فيزيائية غازية

التمرين الثالث : (4 نقط)

عثرت والدة اسماعيل على قارورة بها سانلان غير ممتزجان ورغم التحريك لاحظت أن أحدهما دائما يطفو على الآخر. توجه اسماعيل إلى مختبر العلوم الفيزيائية وقام بالقياسات التالية:
+ السائل A: كتلة 50mL من السائل A هي 50g.

+ السائل B: كتلة 50mL من السائل B هي 40g.

1 (1) ساعد اسماعيل على التمييز بين السائلين بحساب الكتلة الحجمية لكل منهما: (ρ_B و ρ_A)

بالنسبة للسائل A:

$$\rho_B = 40/50 = 0,8\text{g/cm}^3$$

$$\rho_A = 50/50 = 1\text{g/cm}^3$$

2 (2) إذا علمت أن الكتلة الحجمية للزيت هي $\rho_{\text{زيت}} = 0.8\text{g/mL}$ وأن الكتلة الحجمية للماء هي $\rho_{\text{ماء}} = 1\text{g/mL}$ حدد اسم كل من

السائل A و السائل B : A : هو الماء B : هو الزيت

3 (3) فسر لوالدة اسماعيل لماذا يطفو الزيت فوق الماء؟

دائما يطفو الزيت فوق الماء لأن الكتلة الحجمية للزيت أصغر من الكتلة الحجمية للماء: $\rho_B < \rho_A$.