

الرياضيات

مراقبة 1 الألدوس الثاني



الاسم الكامل:
التاريخ:
الفوج:
القسم: الثاني ابتدائي

الملاحظة	الإدارة	الأب/ الولي
10		



1 / أضع وأنجز.



$385 + 143$

$436 + 135$

$325 + 34$

.....
.....
.....
.....

1.5

2 / أنجز ما يلي.

$$\begin{array}{r} 214 \\ - 103 \\ \hline \end{array}$$

$$\begin{array}{r} 438 \\ - 225 \\ \hline \end{array}$$

$$\begin{array}{r} 235 \\ - 12 \\ \hline \end{array}$$

.....

1.5

3 / أملأ الفراغ بما يناسب :

$$\begin{array}{r} 653 \\ + \quad \quad 3 \\ \hline 98 \quad \end{array}$$

$$\begin{array}{r} 234 \\ + \quad \quad \quad \\ \hline 465 \end{array}$$



4 / يملك فلاح 24 خروفا ، باع منها 13 خروفا .

- كم بقي لديه من خروف ؟

.....
.....
.....

1



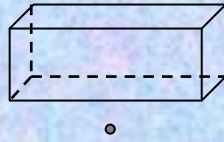
1

5 / دخل أب محلا تجاريا واشترى قميصا ب200 درهم و حذاء ب150 درهما و أشياء أخرى ب65 درهما .

- أحسب ثمن المشتريات :

.....
.....
.....

1



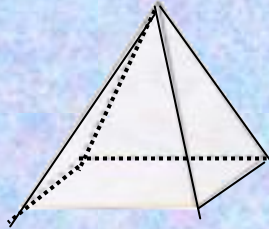
7 / ألاحظ ثم اكتب :

اسم المجسم :

عدد رؤوسه :

عدد حروفه :

عدد وجوهه :



8 / أرسم قطعة قياس طولها 5 سنتيمترات

9 / أضع علامة (x) تحت الشكلين المتماثلين :

