




الأسدوس الثاني

الولي	الإدارة	النقطة
		10

B



المادة الرياضيات

الاسم:

التاريخ:

الفوج:

المستوى: الثانية ابتدائي



$352 + 112$

;

$236 + 215$

;

$165 + 65$

1 / أضع و أنجز

1.5

2 / أنجز:

$$\begin{array}{r} 542 \\ - 132 \\ \hline \end{array}$$

$$\begin{array}{r} 534 \\ - 21 \\ \hline \end{array}$$

1

3 / أملأ الفراغ بما يناسب:

$$\begin{array}{r} 543 \\ + \quad \quad 3 \\ \hline 87 \end{array}$$

1

4 / دخل أحمد محلا تجاريا فلاحظ اللعب التاليه:



130 درهما



80 درهما



120 درهما



650 درهما

1.5

أ - حدد أعلى سلعة.

ب - اختار الدراجة و الدب . أحسب ثمن المشتريات:

.....

.....

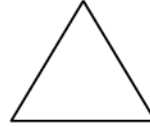
.....

5 / يملك ياسين 25 كلة ، لعب فخر 13 كلة .

كم بقي لديه من كلة ؟

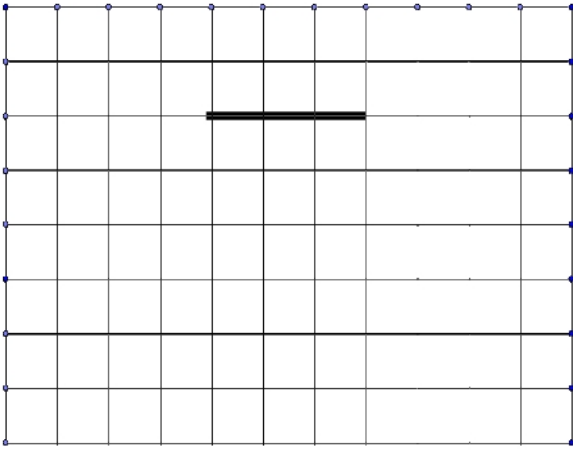
.....
.....
.....
.....

6 / أكتب اسم الشكل :

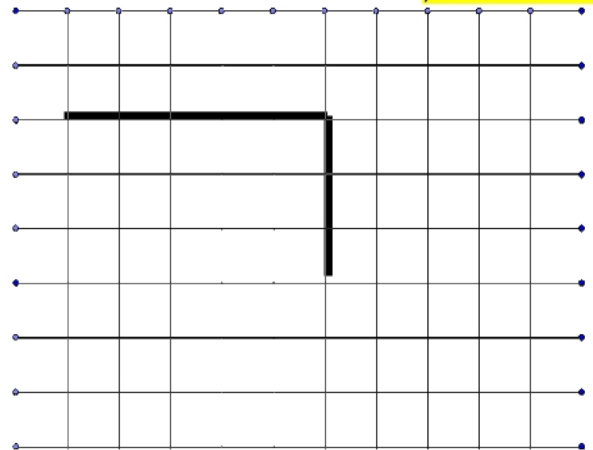


.....

7 / أكمل الرسم :



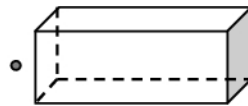
مربع



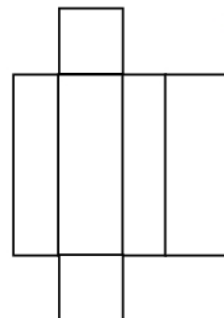
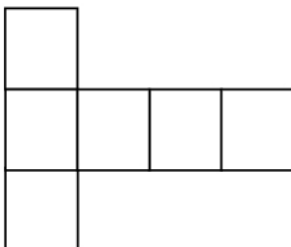
مستطيل

8 / أصل بخط :

- مكعب
- متوازي المستطيلات
- هرم



9 / ألون نشر المكعب :

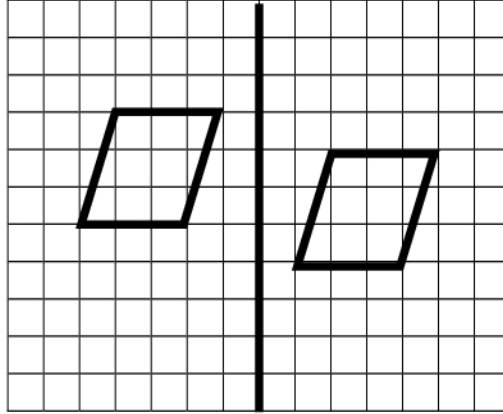


/10 ألاحظ ثم أجيب :

الشكلان متماثلان



ياسين



الشكلان غير متماثلين



علي

من منهما على صواب : علي أم ياسين ؟

