



## إمضاء الولي:

## إمضاء الإدارة:

## النقطة:



أضع وأنجز.

1

$147 + 124$

$865 - 452$

.....  
.....  
.....



أصل بخط وأكمل.

2

$2 \times 7$

$5 \times 5$

$4 \times 5$

$7 \times 10$

$3 \times 2$

25

.....

14

20

.....



1.25

أحسب.

3



$9 \times 10 = \dots\dots\dots$

$5 \times 100 = \dots\dots\dots$

$12 \times 10 = \dots\dots\dots$

$2 \times 30 = \dots\dots\dots$

1

أنجز العمليات التالية.

4

$$\begin{array}{r} 142 \\ \times \quad 5 \\ \hline \end{array}$$

$$\begin{array}{r} 152 \\ \times \quad 3 \\ \hline \end{array}$$

$$\begin{array}{r} 320 \\ \times \quad 2 \\ \hline \end{array}$$



1.5

تحتوي علبة على 10 قطع من الشكولاتة.

5

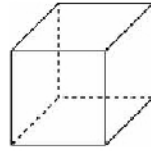
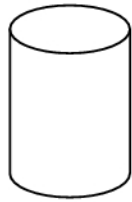
أحسب عدد القطع التي تحتوي عليها 8 علب.

.....  
.....

1

أ- أحيط المجسم الذي يتدرج .

6

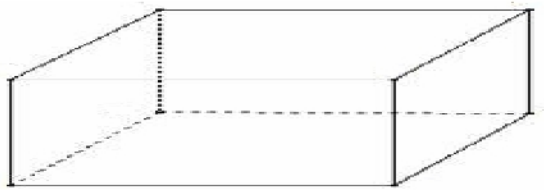


ب- أضع علامة ( x ) تحت المكعب.

1

7 ألاحظ الجسم ثم أكمل

1



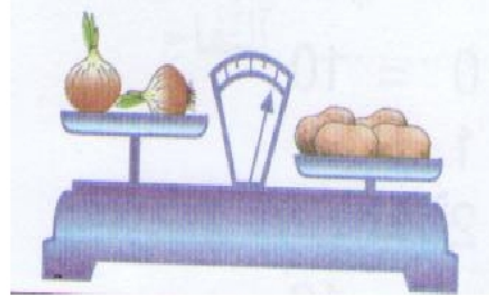
عدد رؤوسه : .....

عدد وجوهه : .....

عدد حروفه : .....

اسمه : .....

8 أكمل بما يناسب : له نفس ثقل - أخف من - أثقل من



0.75

البصل ..... البطاطس.

9 ألاحظ وأكمل

0.5



الطفل الأخف وزنا هو .....

10 أحسب كتلة الطماطم.

1

