



امضاء الولي :

امضاء الإدارة :

النقطة :



أضع وأنجز.

1

$$158 + 123$$

$$785 - 452$$

.....

.....

.....

1



أصل بخط وأكمل.

2

$$4 \times 5$$

$$5 \times 5$$

$$2 \times 7$$

$$3 \times 2$$

$$8 \times 10$$

25

.....

14

20

.....



1.25

أحسب.

3



$$8 \times 10 = \dots\dots\dots$$

$$6 \times 100 = \dots\dots\dots$$

$$13 \times 10 = \dots\dots\dots$$

$$2 \times 30 = \dots\dots\dots$$

1

أنجز العمليات التالية.

4

$$\begin{array}{r} 132 \\ \times \quad 5 \\ \hline \end{array}$$

$$\begin{array}{r} 142 \\ \times \quad 3 \\ \hline \end{array}$$

$$\begin{array}{r} 120 \\ \times \quad 3 \\ \hline \end{array}$$

.....

.....

.....



1.5

5

تحتوي علبة على 10 قطع من الشكولاتة.

أحسب عدد القطع التي تحتوي عليها 7 علب.





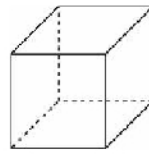
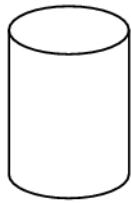
.....

.....

1

6

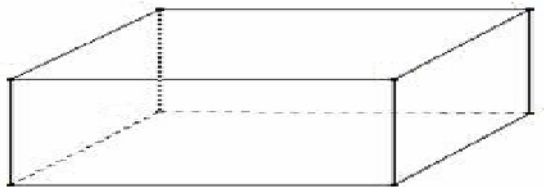
أ- أحيط المجسم الذي يتدحرج .



ب- أضع علامة (X) تحت المكعب.

7

ألاحظ المجسم ثم أكمل



عدد وجوهه:

عدد رؤوسه:

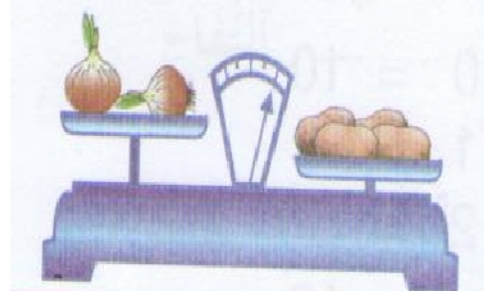
عدد حروفه:

اسمه:

1

8

أكمل بما يناسب : له نفس ثقل - أخف من - أثقل من



البطاطس البصل.

0.75

9

ألاحظ وأكمل .

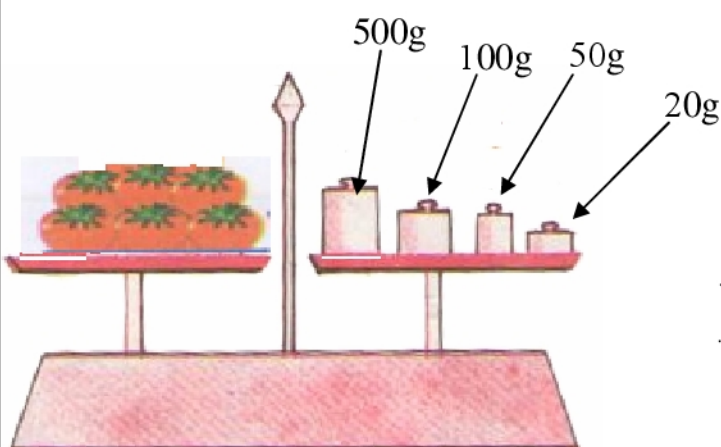


الطفل الأخف وزنا هو

0.5

10

أحسب كتلة الطماطم.



.....

.....

1