

## الأسدوس الثاني

النقطة	الإدارة	الولي
10		



المادة الرياضيات

الاسم: .....

التاريخ: .....

الفوج: .....

المستوى: الأولى ابتدائي

## 1 / أصل بخط أو أكمل.



أربعة وعشرون

37

سبعة و ثلاثون

24

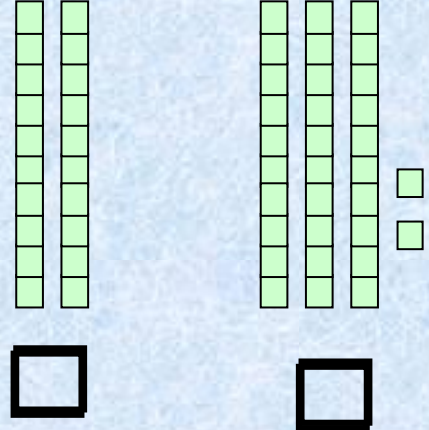
ثلاثة عشر

50

## 3 / ألون 25 مربعا




## 2 / أكتب بالأرقام:



## 4 / أملأ الفراغ بما يناسب:

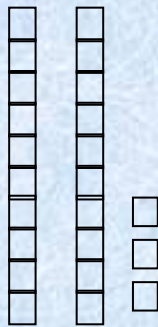
○ ○ ○

○ ○ ○

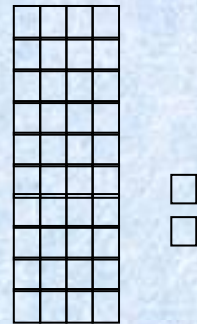
○ ○ ○

○ ○ ○

... + ... + ... =



... + ... + . = .....



... + . = .....

5 / أحسب :

$10 + 5 = \dots\dots\dots$

$10 + 10 + 10 + 2 = \dots\dots\dots$

$40 + 3 = \dots\dots\dots$

$20 + 10 = \dots\dots\dots$



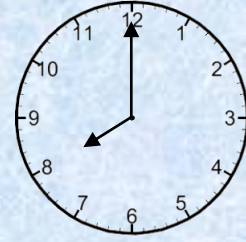
6 / أصل بخط :

السابعة


السادسة

الثامنة

تشير الساعة إلى



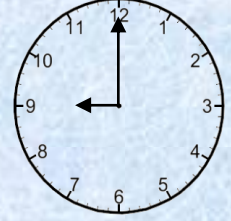
8 / أملأ الساعة الإلكترونية :



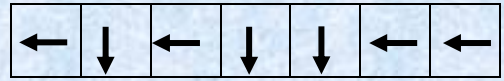

..... : .....

7 / أكتب التوقيت بالنسبة لكل ساعة

04 : 00



9 / أرسم المسار الذي سيسلكه الطفل للوصول إلى الموزة :



10 / ألون المجسمات التي تتدحرج

