

الأب أو الولي	الإدارة	الملاحظة
		$\underline{\quad\quad\quad}$ 10

الاسم:

الفوج:

التاريخ:

المستوى: الأولى ابتدائي

الأسدس الثاني

1- أصل بما يناسب أو أكمل :

19	$20+1$ $10+9$ $5+30$ $\dots + \dots$	تسعة عشر
35	
27	
.....		واحد و عشرون

2.5

2- أحسب :

$20+5+10+4$ $\swarrow \quad \searrow$ $\dots + \dots$ $\swarrow \quad \searrow$ \dots	$2+8+7+3$ $\swarrow \quad \searrow$ $\dots + \dots$ $\swarrow \quad \searrow$ \dots
---	---

1

3- قارن كل عددين باستعمال أحد الرموز : $<$ أو $>$ أو $=$

$12+2 \dots 10+4$

$20+8 \dots 27$

$31 \dots 42$


$21 \dots 10+10+1$

1

4- لاحظ ثم أحسب المبلغ الذي يتوفر عليه الطفل.



1.5



34 درهما

هل يستطيع الطفل شراء الشاحنة ؟


5- أ- لاحظ ثم أحسب :

أحمد



عدد نقط أحمد

يوسف



عدد نقط يوسف

1.5

ب- من الفائز في هذه اللعبة؟

6- أنجز العمليات التالية:

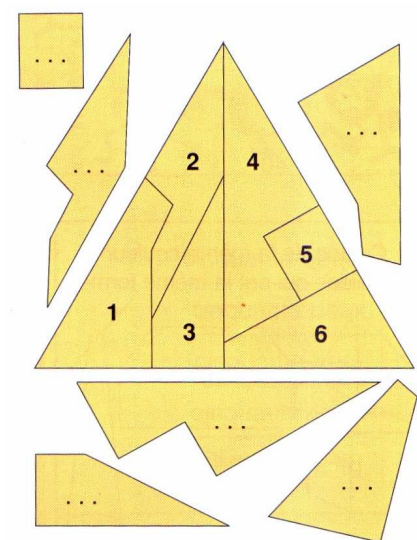
$$\begin{array}{r} 17 \\ + 14 \\ \hline \end{array}$$

$$\begin{array}{r} 25 \\ + 13 \\ \hline \end{array}$$

$$\begin{array}{r} 12 \\ + 20 \\ \hline \end{array}$$

1.5

7- أتمم الترقيم :



1