



## الأسدوس الثاني

A

الولي	الإدارة	النقطة
		10

المادة: الرياضيات

الاسم: .....

التاريخ: .....

الفوج: .....

المستوى: الثالثة ابتدائي

1 أضع و أنجز العمليات التالية.

1

413 - 161

5 532 - 2 218

7 653 - 3 242



.....

.....

.....

.....

1.5

2 توجهت ليلي إلى السوق وفي حافظة نقودها 2000 درهم.

2

اشترت سريرا بـ 1450 درهما و حاجيات أخرى بـ 175 درهما.

➔ أحسب ثمن المشتريات.

.....

.....

1.5

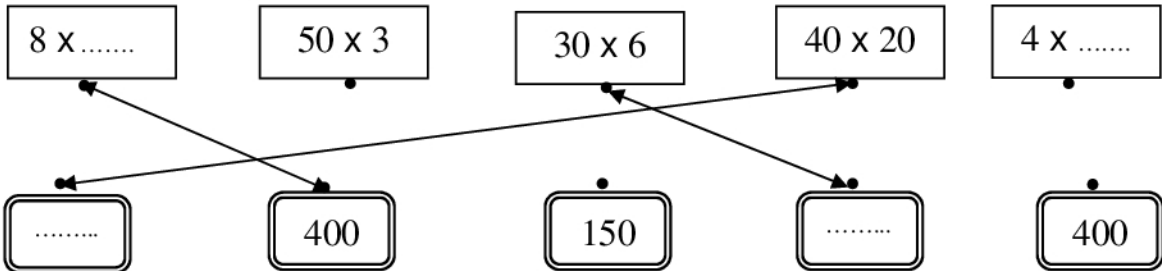
➔ أحسب ما تبقى لها من نقود.

.....

.....

3 أصل بخط أو أكمل.

3



1.25

4 طلبت الأستاذة من التلاميذ تكوين 6 مجموعات بكل مجموعة 4 أطفال.

4

كم عدد تلاميذ هذا القسم ؟

0.5



.....

.....

.....



5 أنجز.

$$\begin{array}{r} 132 \\ \times 6 \\ \hline \end{array}$$

$$\begin{array}{r} 352 \\ \times 4 \\ \hline \end{array}$$

$$\begin{array}{r} 312 \\ \times 3 \\ \hline \end{array}$$

1.5

6

يحتوي صندوق على 12 قنينة زيت.  
أحسب عدد القنينات التي يحتوي عليها 10 صناديق.

.....  
.....

0.75

8 ألاحظ المجسم ثم أكمل.



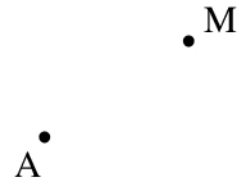
عدد رؤوسه: .....

عدد وجوهه: .....

عدد حروفه: .....

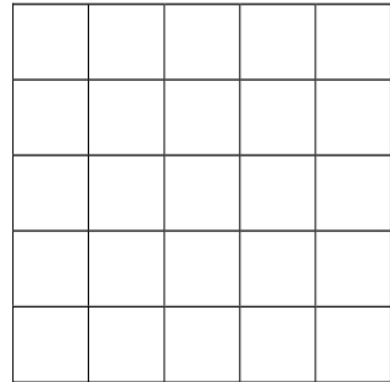
اسمه: .....

7 أرسم دائرة مركزها النقطة A وتمر من النقطة M



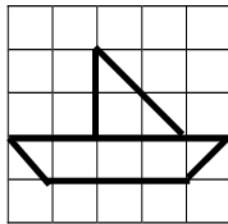
1.5

9 أرسم تكبيرا للشكل.



0.5

10 اتمم رسم الشكلين التاليين.



مربع



مثلث



1