

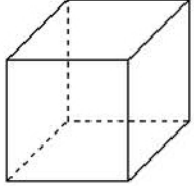


إمضاء الولي:

إمضاء الإدارة:

النقطة:

10



2 ألاحظ المجسم ثم أكمل.

اسمه: .....

عدد وجوهه: .....

عدد رؤوسه: .....

عدد حروفه: .....

1 أصل بخط أو أكمل.

24

8 X 10

80

4 X 3

12

8 X 3

3 أنجز العمليات التالية.



$$\begin{array}{r} 124 \\ \times 12 \\ \hline \end{array}$$

$$\begin{array}{r} 123 \\ \times 4 \\ \hline \end{array}$$

$$\begin{array}{r} 214 \\ \times 2 \\ \hline \end{array}$$

+

4 اشترى نجار 13 لوحة خشبية. ثمن اللوحة الواحدة 125 درهما. أحسب المبلغ الذي دفعه النجار للبائع؟

6 أحيط مضاعفات العدد 5.

5 أصل بخط.

25 ; 50 ; 16 ; 15 ; 13 ; 10

7

5

6

12 مضاعف للعدد

7 أكتب أربع مضاعفات للعدد 6.



1.75

1.5

1

1.5

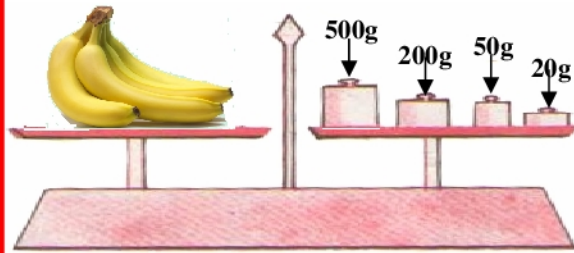
1

8

أكتب تأطيرا للعدد .

عشرتين متتاليتين ..... &lt; 1 423 &lt; .....

أحسب كتلة الموز.



9



ألاحظ ثم أحسب كتلة المحفظة.

10

أحول إلى الوحدة المطلوبة.

12

2 km = ..... m

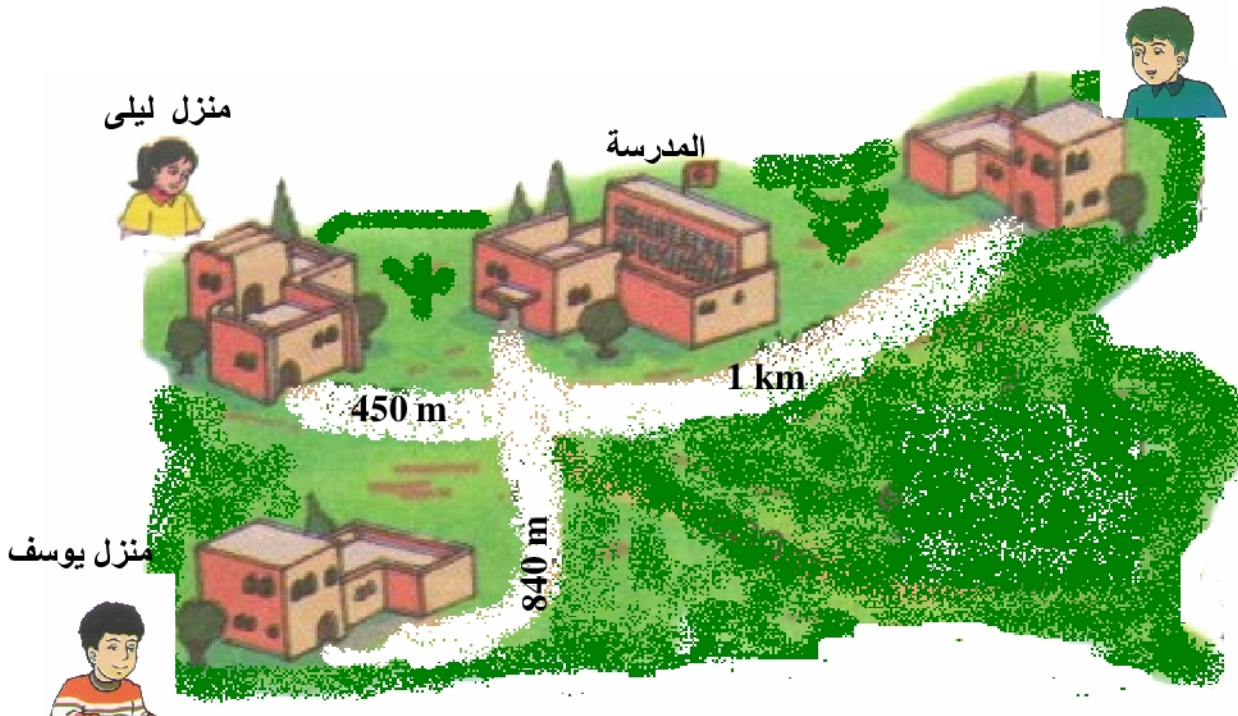
1 km 350 m = ..... m

أضع علامة ( x ) أمام الجواب الصحيح.

11

1km = 100 m 1km = 1 000 m ألاحظ الصورة وأجيب :  
منزل محمد

13



أ- حدد المسافة الفاصلة بين منزل يوسف والمدرسة .  
 ب- تقطع ليلى المسافة الفاصلة بين المنزل والمدرسة 4 مرات في اليوم.  
 احسب المسافة التي تقطعها ليلى يوميا بالمتر ؟ m

0.5

0.5

0.5

0.75

1