

Nom, Prénom:.....

Semestre I
Contrôle n° 2

Note : /20

Matière : Informatique — Pr: HMEDNA

Exercice 1:

(06 pts)

Afin d'organiser sa clé usb pour y stocker tous les documents qu'il a produits, un élève de tronc commun adopte la Structure organisationnelle suivante visualisée sous DOS :

I. Comment appelle t-on cette structure ? (1Pts)

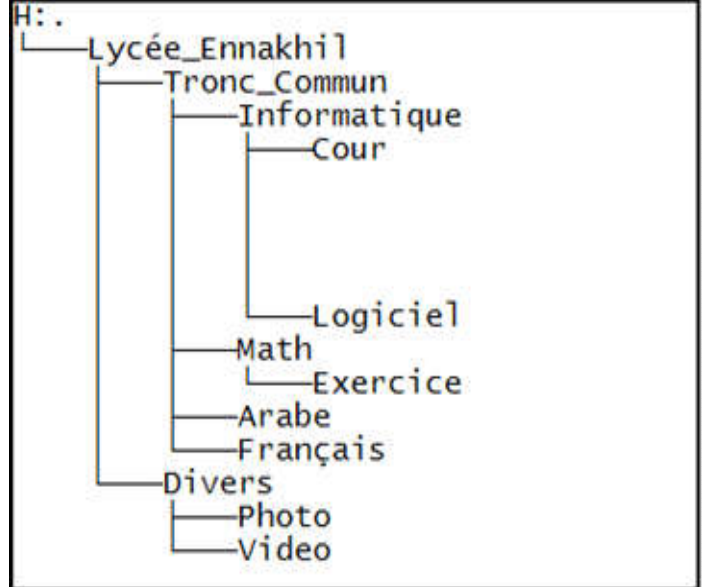
II. Quel est le dossier parent du dossier Français ? (1Pts)

III. Quel est le contenu du dossier informatique ? (1Pts)

IV. Quel est le contenu du dossier Lycée_Ennakhil? (1Pts)

V. Donner le chemin d'accès au dossier Exercice? (1Pts)

VI. Donner le chemin d'accès au fichier video ? (1Pts)



Exercice 2 :

(06 pts)

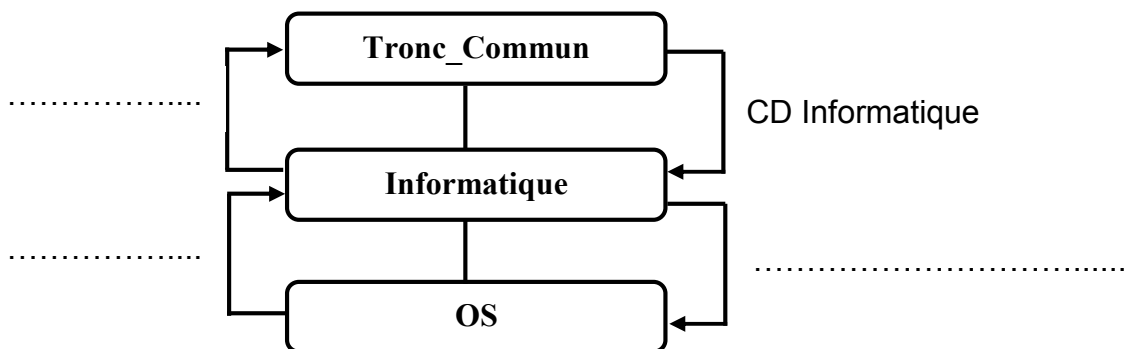
Écrivez la commande à exécuter :

Action voulue	Commandes à taper
Effacer l'écran	E:\ >
Afficher la date système	E:\ >
Afficher l'heure du système	E:\ >
Créer le dossier Lycée_Ennakhil	E:\ >
Supprimer le dossier Arabe	E:\ >
Afficher graphiquement une arborescence	E:\ >

Exercice 3 :

(2.5pts)

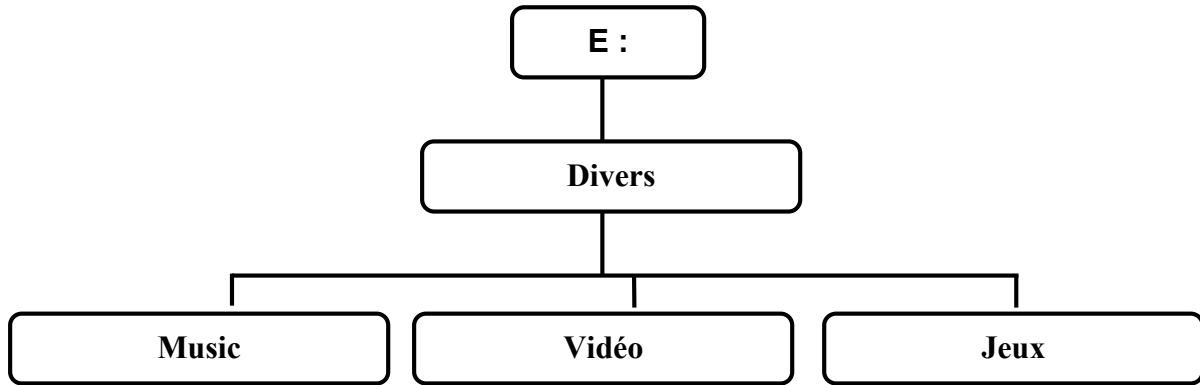
Complétez le schéma suivant :



Exercice 4 :

(5.5pts)

Soit la structure organisationnelle suivante :



- 1. Quel est le dossier parent du dossier « Jeux »?
.....
- 2. Quels sont les dossiers fils du dossier « Divers »?
.....
- 3. Donner le chemin d'accès au dossier « Music »?
.....
- 4. Donner les commandes dos qui permettent de créer les la structure organisationnelle ci-dessus :
.....
.....
.....
.....
.....
.....
.....
.....
.....
.....
.....