

إمضاء الولي:

إمضاء الإدارة:

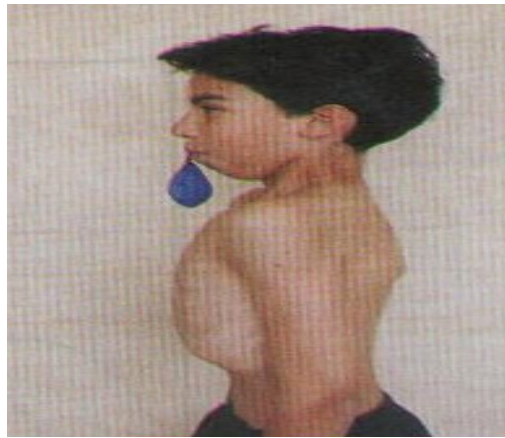
النقطة:

1. أصل بخط:

- يدخل الهواء إلى الجسم
- أثناء الشهيق
- يخرج الهواء من الجسم

0.75

2 / أكتب اسم العملية: شهيق - زفير




حالة

3 / أضع علامة (X) تحت ما يضر الجهاز التنفسي:



2





5 / ألون : - بالأصفر المصدر الضوئي.

- بالأحمر الحاجز

- بالأسود الظل

1.5

6 / أشطب الرسم الخاطئ



0.5


7 / أصل بخط:

- جسم شفاف
- جسم نصف شفاف
- جسم معتم

- الرمل
- الزيت
- الهواء

1.5


8 / أصل كل حيوان بصغيره:



1



9 / أكتب: بيوض - ولود



2