

النشاط العلمي

المراقبة المستمرة 1 الأسدوس الأول

الاسم الكامل:
التاريخ:
الفوج:
القسم : الثالث ابتدائي

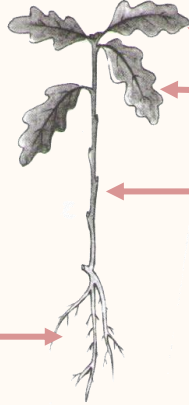
الملاحظة	الإدارة	الأب/ الولي
10		



1 أحيط البذور .



2 أكتب الاسم المناسب أمام كل سهم: ساق - أوراق - جذور



3 أجيب ب : نعم أو لا

تغطي البذور عند زرعها نباتات حية جديدة.

تنتشر البذور بواسطة الرياح فقط .

تنتشر البذور بواسطة الرياح أو الماء أو الحيوانات أو الإنسان.

4 الألاحظ ثم احدد :

في أي اتجاه ينمو الجذر؟

..... ينمو الجذر

في أي اتجاه ينمو الساق؟

..... ينمو الساق



أضع علامة (x) في الخانة المناسبة


5

1.5

زيت	دقيق	مقص	حليب	قلم	حديد	
						جسم سائل
						جسم صلب

أملأ الجدول

6



رمل

خشب

مسحوق السكر

كتاب

مسمار


نشارة خشب

أجسام صلبة غير متراسة	أجسام صلبة متراسة
.....
.....
.....

1.5

الأحظ ثم أكمل الجملة بما يناسب:

7



1

..... ألاحظ أن الماء

أكمل بما يناسب : متراس - غير متراس

8

..... مسحوق السكر يأخذ شكل الإناء الذي يوجد فيه فهو جسم صلب

1