

| الأب أو الولي | الإدارة | الملاحظة |
|---------------|---------|----------|
| | | 10 |

الاسم:
 الفوج:
 التاريخ:
 المستوى: الثالث ابتدائي

الأستاذ الأول

1/ أصل بما يناسب

الرياح

تنتشر بذرة الغافت بواسطة التصاقها ب

1

الحيوانات

2 / أكتب صحيح أو خطأ في الخانة المناسبة :

- ينمو الجذر نحو الأسفل .

- الهواء ليس ضروري لإنبات البذور .

- تنتشر بذور الياسمين البري بواسطة الرياح .

- ينمو الساق نحو الأعلى .

2

3 / أضع الرقم المناسب في الخانة المناسبة .

| | |
|------|----------------------|
| شجرة | <input type="text"/> |
|------|----------------------|

| | |
|------------|----------------------|
| إنبات بذرة | <input type="text"/> |
|------------|----------------------|

| | |
|------|----------------------|
| بذرة | <input type="text"/> |
|------|----------------------|

| | |
|------------|----------------------|
| نبتة صغيرة | <input type="text"/> |
|------------|----------------------|

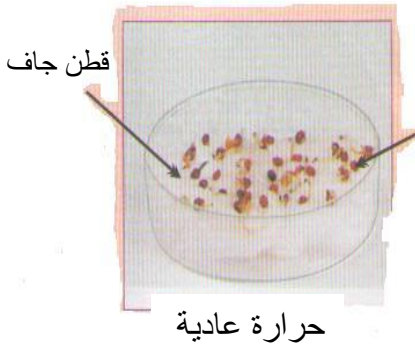
2

4/ أكمل الجملة بما يناسب : قشرة – نبتة صغيرة – فلقتان

1,5


- تتكون البذرة من و تغطيهما

5. / أضع علامة (x) تحت المناولة التي تنبت فيها البذور



قطن جاف

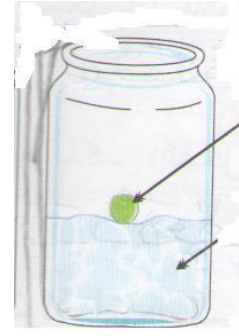
حرارة عادية



بذور

قطن مبلل

حرارة عادية



قطن مبلل

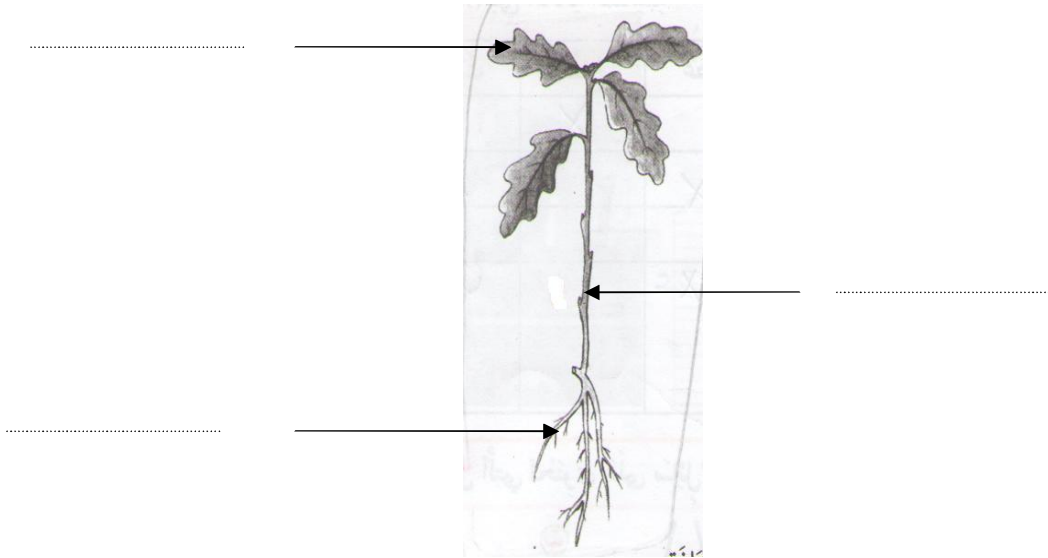
حرارة منخفضة جدا

6 / ماهي الشروط الضرورية لإنبات البذور ؟

.....

.....

7 / أكتب الإسم المناسب أمام كل سهم.



1

1

1,5