

النشاط العلمي


المراقبة المستمرة 1 الأسدوس الثاني 2014-2015

الاسم الكامل:
التاريخ:
الفوج:
القسم: الثالث ابتدائي

الملاحظة	الإدارة	الأب/ الولي
10		



1 أصل كل عنصر من عناصر الدارة الكهربائية باسمه.




بطارية

قاطع كهربائي

مصباح

أسلاك التوصيل

2 ألون المصباح أو المصابيح المضيئة



3 أكتب صحيح أو خطأ داخل كل بطاقة.

.....

لل نحاس موصل كهربائي

.....

لل العقب و القعيرة هما مربط المصباح

.....

لل يضيء المصباح إذا كان القاطع مفتوحا

.....

لل الخشب عازل كهربائي.

.....

لل لا يضيء المصباح إذا تعطل احد عناصر الدارة الكهربائية



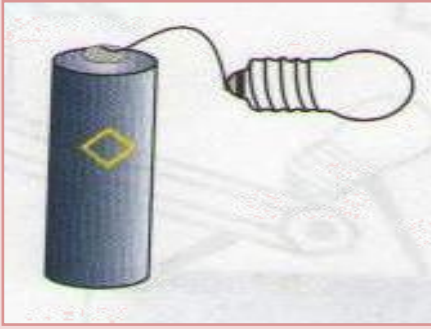
2

1.5

1.25

4

أتم التراكيب التالية لكي تضيء المصابيح .



1.5

5

أصل بخط

- لا يسمح بالرؤية
- الجسم المعتم
- يسمح برؤية واضحة

0.75

6

أتم الجملة بالكلمة المناسبة شفاف - معتم

الخشب جسم

0.5

7

أكتب الاسم المناسب أمام كل سهم.



1.5

8

أملأ الفراغ بما يناسب

الجسم ينفذ عبره الضوء. و الجسم لا ينفذ عبره الضوء .

1