



الاسم العائلي والشخصي: .....  
التاريخ: ..... / المستوى: الثالثة ابتدائي

إمضاء الولي :

إمضاء الإدارة :

النقطة:

10

1 أصل كل حيوان بوسط تنقله.



وسط مائي




وسط بري



وسط هوائي

2 أكتب ما يناسب تحت كل حيوان: يمشي - يزحف - يطير - يقفز



.....

.....

.....


.....

• زعنفة ظهرية

• حر اشيف



3 أصل بما يناسب.

• زعنفة ذيلية



• زعنفة صدرية

4 من بين هذه الحيوانات حيوان برمائي أحيطه بخط مغلق.




5 أكمل بما يناسب : حراشيف - راحية - مجدافية

➤ تسبح السلحفاة البحرية بفضل توفرها على أطراف أمامية.....

➤ للبطة رجل .....تمكنها من العوم.

➤ جسم السمكة مكسو ب.....تسهل انزلاقها في الماء.

6 أرتب مراحل الطيران عند الحمامة بترقيمها من 1 إلى 4.



7 ألاحظ ثم أكتب ما يناسب داخل كل بطاقة: نعم أو لا

➤ الحيوانات التي تقفز له أطراف خلفية تنتهي على شكل حرف Z.

➤ الجناح عند النسر طرف أمامي مكسو بالريش.

➤ الحيوانات التي تقفز لها أطراف خلفية أقصر من الأطراف الأمامية.

➤ الجناح عند الخفاش طرف أمامي مغطى بجلد .

8 ألاحظ ثم أكمل الجملة بما يناسب.



الطرف الخلفي للكنغر ..... من الطرف الأمامي.

1.5

1

2

0.5