

# النشاط العلمي

المراقبة المستمرة 2 الأسدوس الأول

الاسم الكامل: .....  
التاريخ: .....  
الفوج: .....  
القسم: الثاني ابتدائي

الملاحظة	الإدارة	الأب/ الولي
10		



تعرف بعض خاصيات الأجسام .

معرفة

1 / أصل بخط:

- جسم صلب
- جسم سائل
- جسم غازي

● الماء

فهم

2 / أحيط بخط الأجسام الصلبة

ماء

قلم

زيت

هواء

كرسي

كتاب

مسمار

3 / أجيب ب : نعم أو لا:

- الخشب جسم صلب
- لا تأخذ السوائل شكل الإتهاء الذي توجد فيه.
- الهواء جسم غازي


4 / أملأ بما يناسب: طحن - تكسير - تقطيع



← ..... →



← ..... →



← ..... →



0.5

1.5

1.5

1.5

تعرف الهضم و مراحلہ و الأسنان و وظائفها و طرق الحصول على الغذاء .



معرفة

5 / أصل بما يناسب:

- تقطع طعام
- تطحن الطعام
- تمزق اللحم
- الأضراس
- الأنسب
- القواطع

فهم


6 / أضع علامة (X) تحت ما يضر أسناني:



7 / أملأ الفراغ بما يناسب :

يستعمل القط ..... للبحث، ..... للجري، ..... و مخالفه للقبض.

8 / ألاحظ و أكتب الأعضاء المستعملة للحصول على الغذاء:



1.5

1

1.5

1