

## اختبار المعارف: (6 ن)

1- عرف مايلي: سيالة عصبية - جهد الكمون (1 ن)

2- أجب بصحيح أو خطأ: (2 ن)

A- جهد العمل:

أ- ينتج عن مرور سيالة عصبية

ب- أحادي الطور عند تطبيق إهاجة واحدة.

ج- ناتج عن تغير نفاذية غشاء الليف للأيونات.

د- ثنائي الطور عند استعمال مسرايين مستقبلين

3- لنعبر التركيبين التجريبيين التاليين:

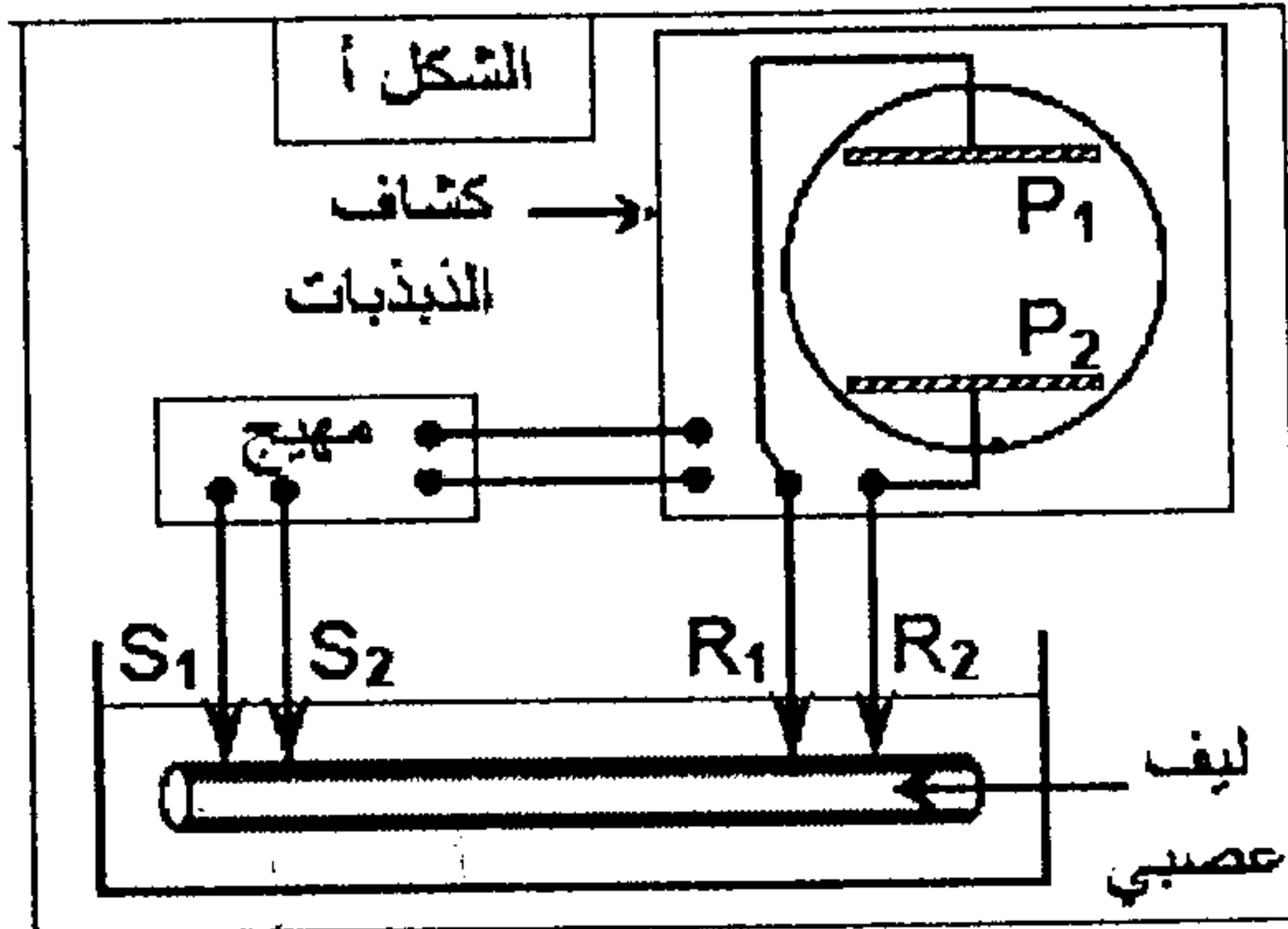
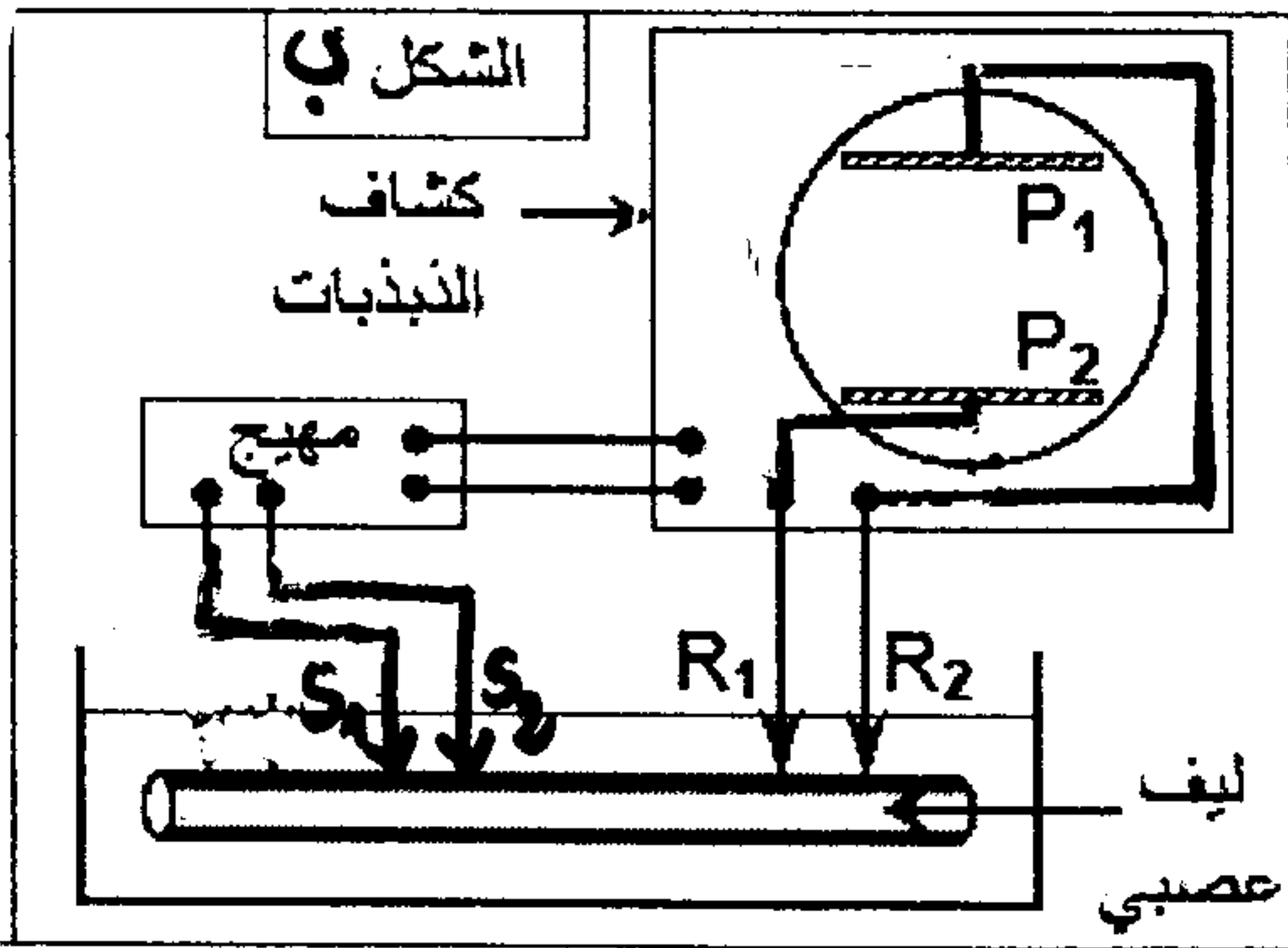
B- الليف العصبي

أ- له دور حسي أو حركي .

ب- له شعنة موجبة على سطحه .

ج- هو جزء من العصبية .

د- قابل للتثبيج .



وارسم شكل  
التسجيلات  
المحصل عليها  
في الحالتين (أ) و (ب)  
(1 ن)

4- حدد الاقتراحات الصحيحة وصنع الاقتراحات الخاطئة: (1 ن)

أ- تزداد احتياجية العصب عند تزداد قيمة الكروناكسي .

ب- تتكون المادة الرمادية للنخاع الشوكي من أجسام خلوية .

ج- مرحلة الكمون هي جهد الراحة .

د- الريوباز هي أصغر شدة تهيج العصب .

5- أتمم الحظاظة التالية بما يناسب: (1 ن)

③

تدفق  $Ca^{2+}$  إلى داخل الحبة السينابسية ←

①

↓

ارتباط الاستيل  
كولين بمستقبلاته .

④

②

نشوء جهد تهيج  
بعد سينابسي

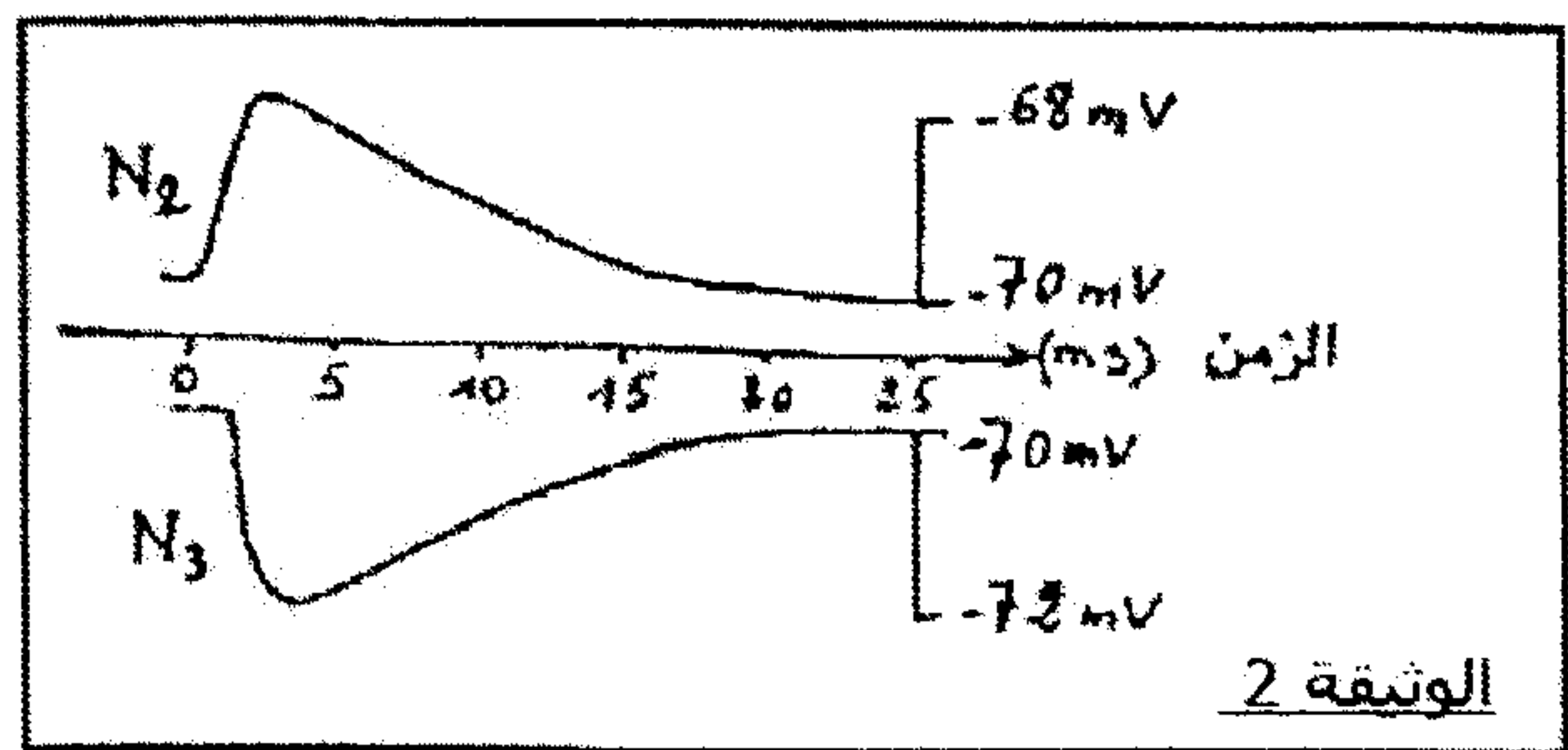
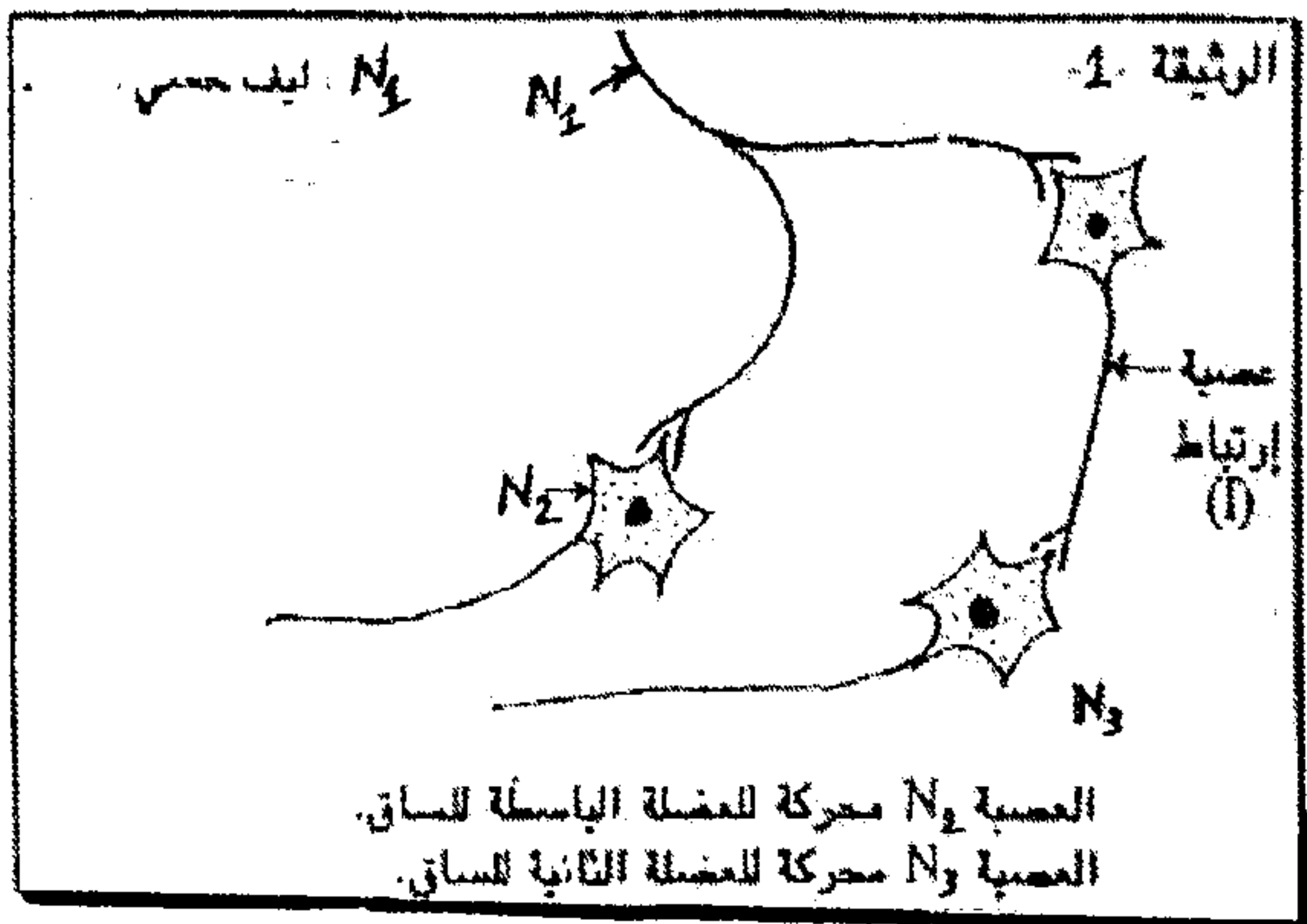
## تمرين 1 : (6 ن)

تم تهييج كل من العصب الوركي لضفدعة، وأحد الألياف العصبية بإهجات كهربائية ذات شدات متصاعدة من  $I_1$  إلى  $I_{10}$ ، يعطي الجدول التالي نتائج قياس وسع النشاط الكهربائي للعصب وليف إثر كل إهجة.

$I_{10}$	$I_9$	$I_8$	$I_7$	$I_6$	$I_5$	$I_4$	$I_3$	$I_2$	$I_1$	شدة الإهجات (A)	وسع استجابة
90	90	90	90	90	90	90	90	0	0		الليف العصبي
510	510	500	420	360	290	150	90	0	0		العصب (mV)

- 1- أنجز في نفس المعلم منحنيًا وسع استجابة الليف العصبي والعصب بدلالة شدة الإهجات (حيث 1cm يمثل 50mV و 1cm يمثل 1A) (2ن)
- 2- صف تغيرات وسع استجابة الليف العصبي والعصب. وفسر الاختلاف الملاحظ بينهما. (2ن)

قصد معرفة خصائص الليف العصبي وكيفية التواصل بين العصبين، نقوم بالتجربة التالية :  
 نهيج الليف العصبي N1 ونسجل النشاط الكهربائي للعصبين N2 و N3.



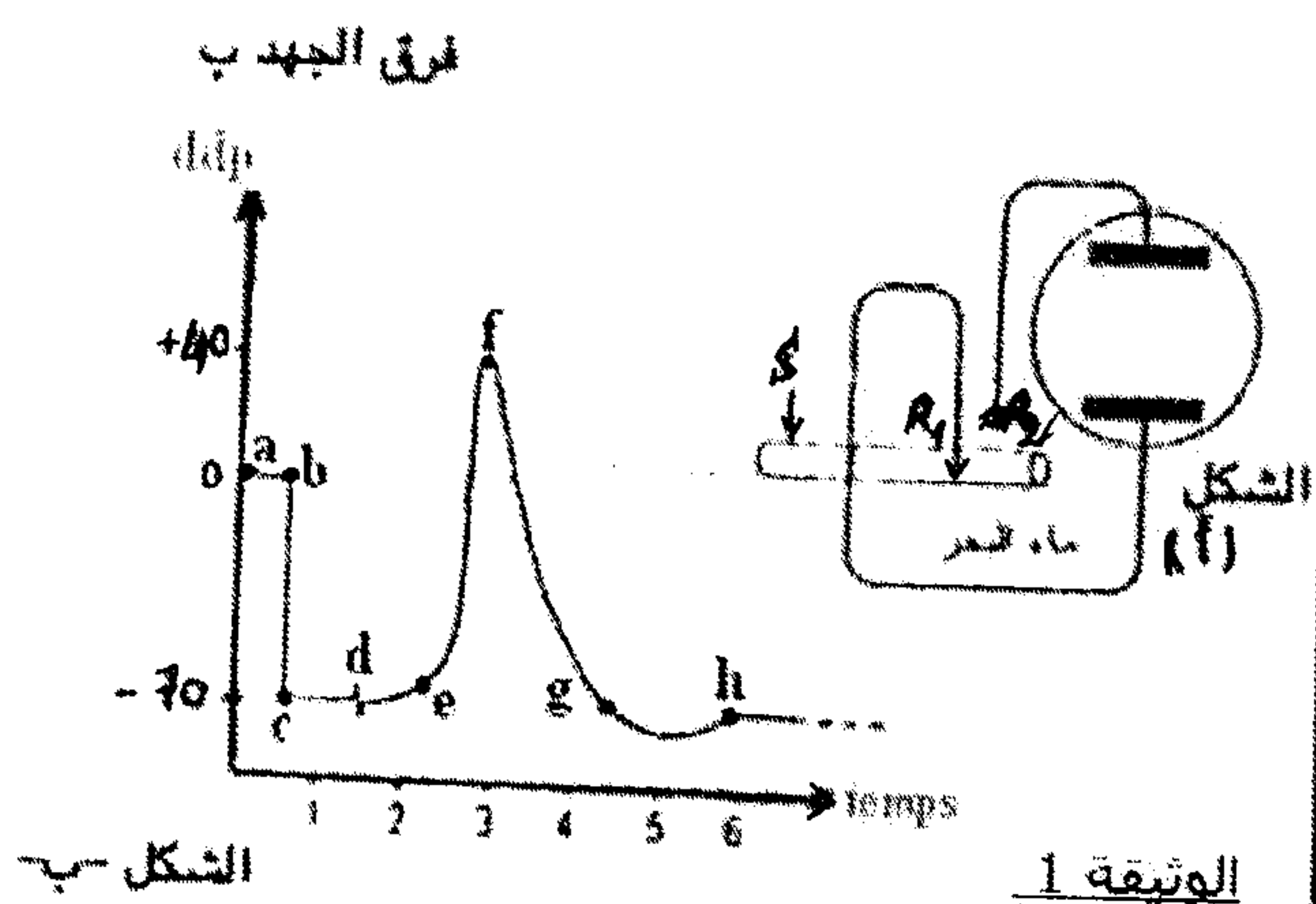
تمثل الوثيقة 2 التسجيلات المحصل عليها.

- 3- ماذا يمثل التسجيلان  $N_2$  و  $N_3$ . علل جوابك. (1ن)
- 4- استتج نوع السيناپس بين  $N_1$  و  $N_2$  ما جهة، وبين  $N_1$  و  $N_3$  من جهة أخرى. (1ن)

## تمرين 2 : (8 ن)

لدراسة بعض مظاهر النشاط الكهربائي لليف عصبي نستعمل العدة التجريبية الممثلة في الشكل أ الوثيقة 1. عندما يتم إدخال R1 في الليف العصبي نحصل على التسجيل abc، وعندما تتم إهجته نحصل على التسجيل defgh.

1. سمّ كلا من التسجيلين abc و defgh. (1ن)
2. تعرّف مختلف مراحل التسجيل Defgh. (1ن)



الشكل ب

الوثيقة 1

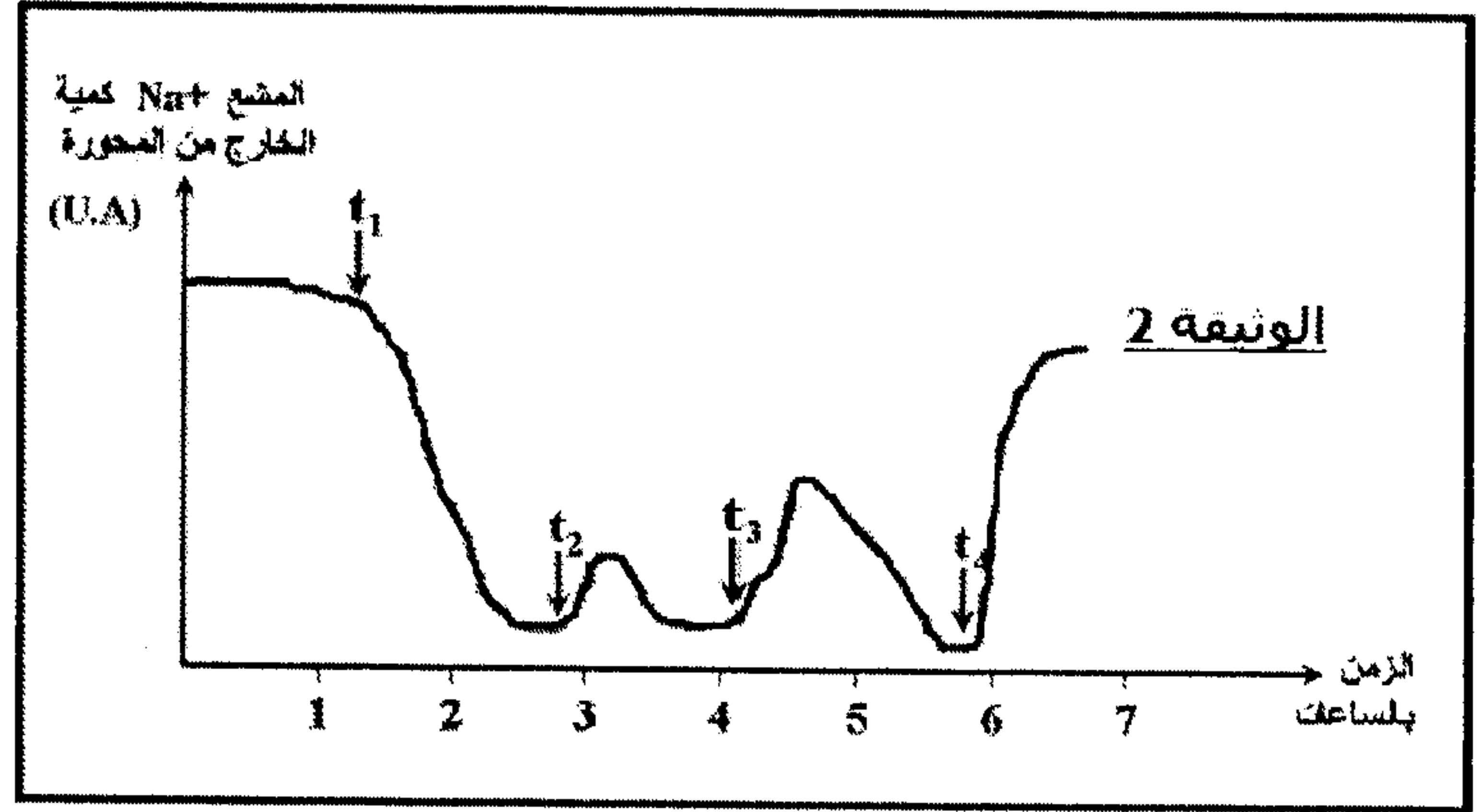
نحقن  $\text{Na}^+$  المشع داخل محورة مغمورة في ماء البحر ثم نقيس خروج هذا العنصر من المحورة في الظروف التالية:

- في الزمن  $t_1$ : نضيف لماء البحر مادة السيانور cyanure (مادة تكبح الآليات الكيميائية للتنفس) تكبح إنتاج ATP
- في الزمن  $t_2$ : نحقن المحورة بكمية  $q$  من ATP .
- في الزمن  $t_3$ : نحقن المحورة بكمية  $5q$  من ATP .
- في الزمن  $t_4$ : نزيل مادة السيانور.

تبين الوثيقة 2 النتائج المحصل عليها.

3. حلل النتائج المحصل عليها في الوثيقة 2 . ماذا تستنتج؟ (2ن)
4. علما أن تركيز أيونات البوتاسيوم والصوديوم داخل و خارج المحورة هو كالتالي (انظر الجدول)، واعتمادا على ما سبق وعلى معلوماتك، فسر أصل جهد الكمون. (1ن)

تركيز الأيونات ب mMol/L		الأيونات
خارج المحورة	داخل المحورة	
436	49	$\text{Na}^+$
22	440	$\text{K}^+$



لفهم بعض الجوانب البيوكيميائية المسؤولة عن تسجيل الشكل defgh، تم تتبع نفاذية الغشاء السيتوبلازمي للمحورة اتجاه أيونات البوتاسيوم  $\text{K}^+$  و الصوديوم  $\text{Na}^+$ . تبين الوثيقة 3 النتائج المحصل عليها:

اعتمادا على معطيات الوثيقة 3 وعلى معلوماتك :

5. تعرف المراحل أ، ب و ج. (1ن)
6. اعط تفسيرا أيونيا لكل مرحلة من مراحل هذا التسجيل. (1,5ن)

